









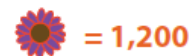
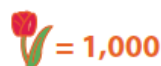
## La pépinière : Interpréter un pictogramme

Ces deux pictogrammes comparent deux types de fleurs importés de l'Europe. Réponds aux questions suivantes en utilisant l'information des deux pictogrammes.


Note : Chaque tulipe dans le pictogramme représente 1000 tulipes.  
Chaque marguerite dans le pictogramme représente 1200 marguerites.

Pays	Nombre de tulipes
Hollande	
France	
Danemark	
Italie	

Pays	Nombre de marguerites
Hollande	
France	
Danemark	
Italie	



### Questions:

- 1) Combien de tulipes la France et la Hollande ont-elles importées?
- 2) Combien de marguerites la Hollande et l'Italie ont-elles importées?
- 3) Quel pays a importé le même nombre de tulipes et de marguerites?
- 4) Nomme les pays qui ont importés le plus de fleurs en ordre décroissant (du plus grand nombre de fleurs au plus petit nombre de fleurs).
- 5) Si le Danemark veut importer 3000 marguerites de plus, combien de  dessinerais-tu de plus dans le tableau?